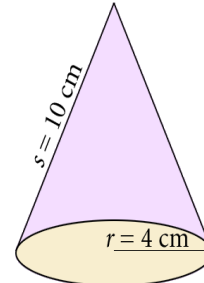




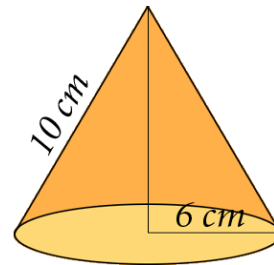
КУПА



1. Одреди површину купе са слике.

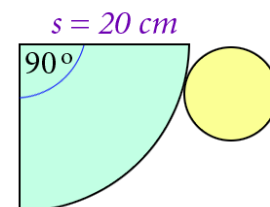


2. Одреди запремину купе са слике.



3. Површина купе је $36\pi \text{ cm}^2$, а површина њене основе $16\pi \text{ cm}^2$. Колика је запремина те купе?

4. Одреди запремину купе чија је мрежа дата на слици.



5. Израчунај масу гвозденог предмета са слике. Мере су дате у милиметрима. Густина гвожђа је $7,8 \text{ g/cm}^3$.