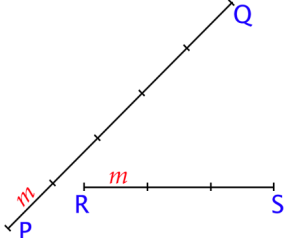




ПРВИ ПИСМЕНИ ЗАДАТАК

Основни ниво

1. На слици су дате дужи PQ и RS. У којој размери стоје ове дужи?

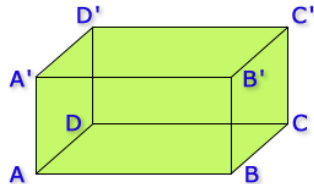


2. Дату дуж АВ подели на 5 једнаких делова. A _____ B

3. Дат је квадар ABCDA'B'C'D' на слици.

Која темена квадра не припадају равни одређеној тачкама:

- а) A, B, A'; б) D', C, C'; в) B, D, B'



- 4.а) Које праве одређене теменима квадра на слици секу праву AD'?

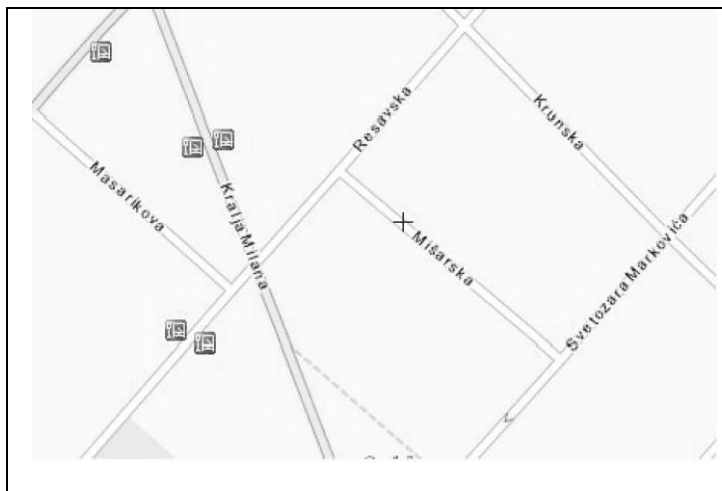
- б) Које су праве одређене теменима квадра на слици паралелне правој A'D'?

- в) Која је права одређене теменима квадра на слици паралелна правој D'B'?

5. Постоји ли четворострани рогаљ чији су

ивични углови 65° , 87° и 120° ?

6. На слици је приказан део мапе Београда. Која од понуђених улица је паралелна са улицом Светозара Марковића?



Заокружи слово испред тачног одговора.

- а) Масарикова г) Крунска
б) Краља Милана д) Мишарска
в) Ресавска