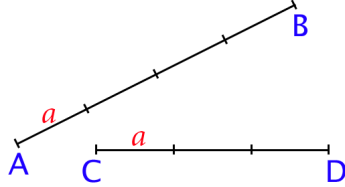





СЛИЧНОСТ ТРОУГЛОВА



1. На слици су дате дужи АВ и CD. У којој размери стоје ове дужи?

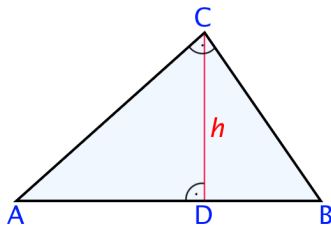


2. Дату дуж PQ подели на две дужи које стоје у размери 2 : 3.



3. Дефиниши сличност два троугла.

4. Дат је правоугли троугао ABC и висина h која одговара хипотенузи. Наведи све сличне троуглове које уочаваш на слици.



5. Два правоугла троугла са слике су слична. Одреди странице P_1Q_1 и Q_1R_1 .

